

Internationales Studienkolleg der Hochschule Kaiserslautern

Semester: Sommersemester 2019

FSP-Teilprüfung: VWL - Wirtschaftspolitik W2

Datum: 13.06.2019

Dauer: 60 Minuten

Prüfer: Dr. Jens Siebel

Aufgabe 1

Geben Sie an, welches Gerechtigkeitspostulat auf den Wahlkampfplakaten jeweils gemeint ist. Begründen Sie Ihre Antwort. Welche politischen Anforderungen stellen die beiden Gerechtigkeitspostulate jeweils? Welche Probleme ergeben sich dabei? (8 Punkte)



<https://www.welt.de/img/debatte/kommentare/mobile168792091/4511625377-ci23x11-w1600/SPD-Plakat-Wahlplakat-2017-Bundestagswa.jpg> (05.06.2019)




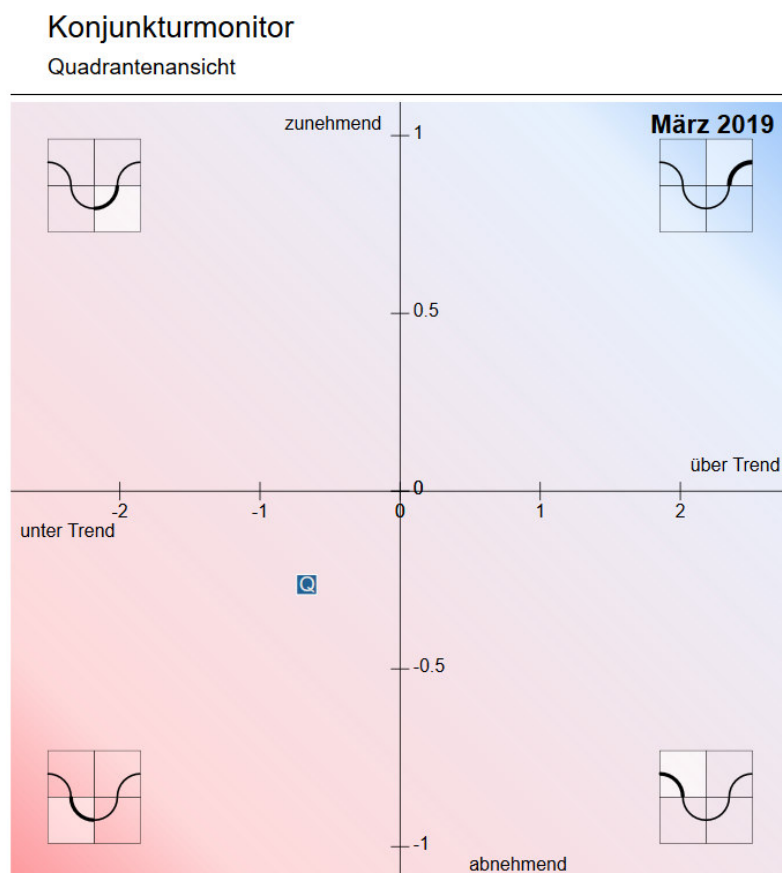
Quelle: <https://pbs.twimg.com/media/DKAkdoSWkAEZc9k.jpg:large> (05.06.2019)

Aufgabe 2

Erklären Sie die verschiedenen Formen struktureller Arbeitslosigkeit (8 Punkte).

Aufgabe 3

- a) Stellen Sie einen Konjunkturzyklus mit seinen verschiedenen Phasen graphisch dar. Zeichnen Sie zusätzlich einen Frühindikator ein (4 Punkte).
- b) Im Konjunkturmonitor von destatis ist der Zustand des deutschen BIP durch den Punkt  dargestellt. In welcher Phase des Konjunkturzyklus befand sich Deutschland im März 2019 laut destatis (mit Begründung) (4 Punkte)?



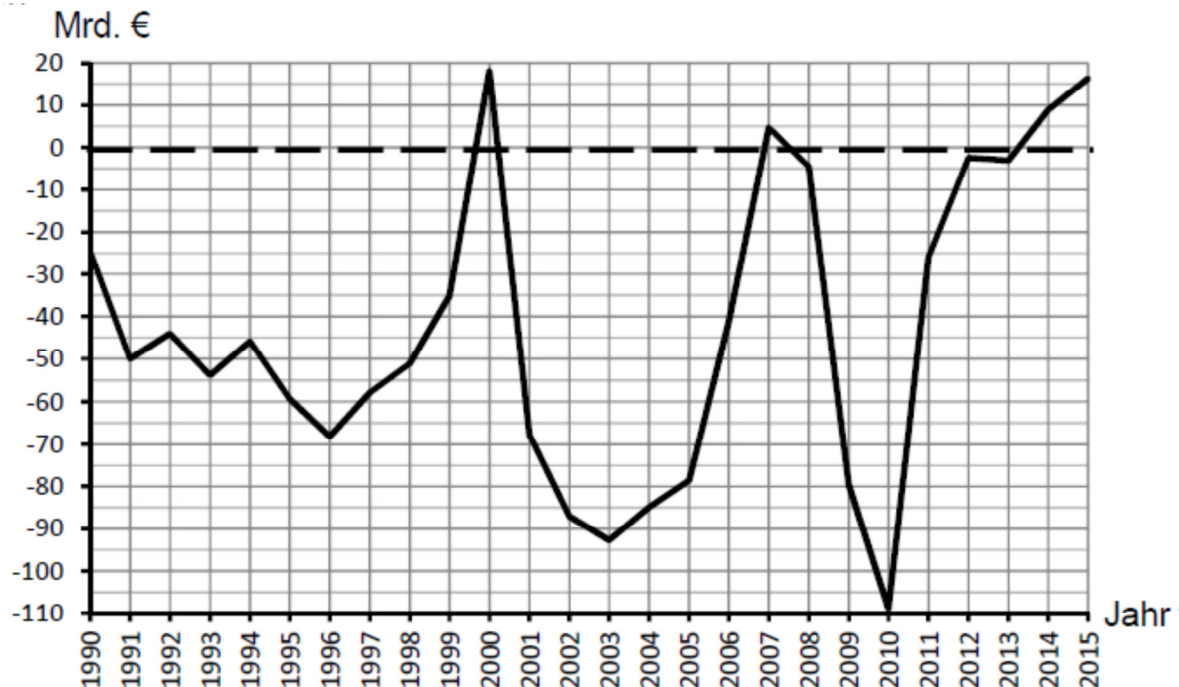
Quelle: https://service.destatis.de/KoMo/Konjunkturmonitor_2010.svg (28.05.2019)

Aufgabe 4

- a) Erklären Sie, warum das Ziel „Preisniveaustabilität“ in der Bundesrepublik Deutschland so wichtig ist (4 Punkte).
- b) Beschreiben Sie die Distributionsfunktion der Preisniveaustabilität (4 Punkte).

Aufgabe 5

Beschreiben Sie die Entwicklung des Finanzierungssaldos der BRD anhand der Grafik. Geben Sie auch an, in welchen Jahren die Staatsverschuldung gesunken ist (8 Punkte).



Quelle: Statistisches Bundesamt